



- Eyvah, ütünün fişini takmayı unuttum()
- Senin de yazdığını bilmiyordum()
- Aradı mı bizi()
- İtfaiye sirenlerini çalarak gidiyorduk()

Emel Öğretmen tahtaya yukarıdaki cümleleri yazmış, noktalama işaretlerini koymayı atlamıştır. Öğrencilerinden defterlerine yazarken eksikleri tamamlamalarını istemiştir. Sonunda defter kontrolü yapan Emel Öğretmen, her doğru için bir ★'lı etiket yapıştırılmıştır.

Hangi öğrencinin defterinde daha çok yıldız vardır?

A)



(!)
(?)
(?)
(!)

B)



(!)
(?)
(!)
(!)

C)



(.)
(.)
(?)
(!)

D)



(!)
(.)
(?)
(.)

Duygu ve düşüncelerin ahenk olmadan yazılması

öykü

Olağanüstü olayların anlatıldığı metin türü

masal

Olmuş veya olabilecek olayları yer, zaman, olay ve kahraman unsurlarıyla anlatma

düz yazı

Yukarıdaki eşleştirme hangi seçenekte doğru verilmiştir?

A)



B)



C)



D)





Yukarıdaki görselle ilgili hikâye yazan Ebru, hikâyesinde gerçek ve hayal unsuru olaylara yer vermiştir. Yazdığı hayal unsuru cümleyi çok beğenen Ebru, bu cümlenin altını çizmiştir.

Ebru hangi cümlesinin altını çizmiş olabilir?

- A) Bugün parkta çok eğlendim.
- B) Annem beni çok hızlı salladı
- C) Sallanırken ayaklarım bulutlara değdi.
- D) Parkta kimsecikler yoktu.

Mavi ile sarı karıştırıldığında yeşil renk oluşur.
Sarı ile kırmızı karıştırıldığında turuncu oluşur.
Mavi ile kırmızı karıştırıldığında mor oluşur.
Beyaz ile kırmızı karıştırıldığında pembe oluşur.



Yukarıda birbiri ile eş anlamlı sözcüklerin olduğu boya kutuları karıştırılarak yeni renkler elde edilecektir.

Buna göre hangi renkler elde edilir?

- A) Yeşil – pembe
- B) Mor – pembe
- C) Yeşil – turuncu
- D) Turuncu – mor

Çoban, hayvanlarını otlatıyordu. Kalabalığın kendisine doğru geldiğini gördü.

— Neden geldiniz, diye sordu onlara.

— Bunca yıldır seni ıssız dağlara yolluyoruz. Merak ettik her gün ne yapar ne edersin? Gördük ki senin işin çok zor bir iş.

— Sevdiği işi yapanlara yollar da kolay, dağlar da yakın olur, dedi çoban.



Aşağıdakilerden hangisi bu metnin başlığı olabilir?

A) Çobanın Merakı

B) Sevdiğim İş

C) Köylünün Öfkesi

D) Çobanın Koyunları

Çayın içine üzerinde eş anlamlı kelimelerin yazılı olduğu şekerler konacaktır.

eksik – tam

yalan – yanlış

şekil – biçim



Eş anlamlı kelimeler çayı

yitirmek – kaybetmek

yetenek – kabiliyet

Buna göre çay kaç şekerlidir?

A) 1

B) 2

C) 3

D) 4

Sokakta yürürken az ileride bir kalabalığın olduğunu gördüm. Bir televizyon programı için çekim yapılıyordu. Spiker ödüllü bir soru sormuştu ve cevabı henüz bilen olmamıştı. “Dünyada paradan daha kıymetli ne vardır?” “elmas, altın, sevgi...” Kendimi tutamadım ve “zaman” deyiverdim. Spiker birden bana doğru döndü ve “Doğru cevabı bildin.” dedi. Zaman paradan daha kıymetlidir, çünkü

Yukarıdaki noktalı yere aşağıdakilerden hangisi gelirse metin daha anlamlı olur?

A) zamanımızı iyi değerlendirmeliyiz.

B) para ile mutluluk olmaz.

C) bu dünyada para ile elde edeceğimiz çok şey vardır.


D) para geri kazanılabilir ama zaman geri getirilemez.

Aşağıda öğrencilerin kişilik özellikleri hakkında bilgiler verilmiştir.

- ➔ Ceyda, her zaman her şeyini başkalarıyla paylaşır.
- ➔ Sıla, herhangi bir şey için kendi yararından vazgeçer.
- ➔ Toprak, her şeyi anlayışla karşılayan biridir.
- ➔ Orçun; işinde, sözünde ve davranışlarında her zaman doğrudur.

Buna göre aşağıdaki özellikler öğrencilerle eşleştirildiğinde hangi özellik boşa kalır?

- A) Cömertlik B) Sorumluluk C) Fedakârlık D) Hoşgörü



Yunuslar, tatlı ve tuzlu suda yaşayabilen canlılardır. Denizde yaşayan canlıların en zeki olanıdır. Uyku uyumadan yaşayabilme özelliğine sahiptirler. Yunuslar etle beslenirler İki mideleri vardır. Midelerinden biri besinleri sindirirken diğeri depolar. Derileri iki saatte bir yenilenir. Nefeslerini on beş dakika kadar tutabilme özelliğine sahiptirler. Suyun içinden 6 metre yukarıya kadar zıplayabilirler. Türlerine göre yaşam süreleri 60 yıla kadar çıkabilir. Gemilerin köpüklü sularında oynamayı ve deniz taşıtlarına eşlik etmeyi severler. İnsanoğluna en çok yakınlık gösteren hayvandır.

Yukarıdaki metinde yunuslarla ilgili hangi özellikten söz edilmemiştir?

- A) Yunuslar, denizde yaşayan canlıların en zekileridir.
B) İnsanlarla yakınlık kurmayı severler.
C) Yunuslar uyku uyumadan yaşayabilme özelliğine sahiptirler.
D) Yunuslar su altında sesler çıkararak birbirleriyle haberleşirler.



Aşağıda Aslı, Ozan ve Yeşim'in eş sesli sözcüklerle ilgili yazdığı cümleler verilmiştir.

Aslı

- ➔ Elbisesi yaş olduğu için giyemedi.
- ➔ Kır saçlı adam konuşmaya başladı.
- ➔ Defterine üç satır yazı yazdı.
- ➔ Merve sınavından yüz aldı.

Ozan

- ➔ Yediğimiz yaş pasta çok güzeldi.
- ➔ Sınıfça kır gezisine gittik.
- ➔ Kelimeler satır sonunda kısa çizgi ile ayrılır.
- ➔ Aldığı elbise yüz liraymış.

Yeşim

- ➔ Ayşe, Oya'dan beş yaş küçük.
- ➔ Bahçedeki odunları kır.
- ➔ Kasabın elindeki satır çok keskindi.
- ➔ Bahçeye yüz fidan diktik.

Buna göre hangi ifade yanlıştır?

- A) Aslı ve Yeşim "yaş" sözcüğünü farklı anlamda kullanmışlardır.
B) "Yüz" sözcüğünü üç öğrenci de aynı anlamda kullanmıştır.
C) "Kır" sözcüğünü Aslı ve Yeşim aynı, Ozan farklı anlamda kullanmıştır.
D) Yeşim, "satır" sözcüğünü "Et kesmeye yarayan ağır ve enli bıçak türü." anlamında kullanmıştır.



Bir bankada bulunan yukarıdaki kasaların her birine 50000 TL para yatırılmıştır. Bu para yatırıldıktan sonra en fazla para bulunan kasadaki tutar en yakın olduğu yüzlüğe yuvarlanarak kasaya şifre olarak girilmiştir.

Kasa ve girilen şifre hangi seçenekte doğru verilmiştir?

	<u>Kasa No</u>	<u>Şifre</u>
A)	1	87600
B)	2	57700
C)	3	94400
D)	4	94300



- ➡ Defterinize yazdığınız çıkarma işleminde eksilen sayı dört basamaklı, çıkan sayı ise üç basamaklı olsun.
- ➡ Çıkarma işleminde fark olan sayının birler bölüğü 249 olsun.

Öğretmenin yaptığı açıklamaya uygun çıkarma işlemi hangisidir?


A)
$$\begin{array}{r} 2527 \\ - 378 \\ \hline \end{array}$$

B)
$$\begin{array}{r} 3731 \\ - 482 \\ \hline \end{array}$$

C)
$$\begin{array}{r} 1527 \\ - 1278 \\ \hline \end{array}$$

D)
$$\begin{array}{r} 1213 \\ - 764 \\ \hline \end{array}$$

Ayşe Öğretmen farklı renklerdeki kartlara sayılar yazarak bir çıkarma işlemi oluşturuyor.



Bu kartların tümünü topladığında 240 sayısı elde ediliyor.

Turuncu renkli kartta 40 yazılı olduğuna göre, yeşil renkli kartta kaç yazılıdır?


- A) 70 B) 80 C) 100 D) 120

Selin kırtasiyeye alışverişe giderken, zihninden tahmîni kaç TL ödeyeceğini hesaplamıştır.



Selin'in yaptığı tahmîni işlem hangisinde doğru verilmiştir?

- A) $20 \times 20 = 400$ B) $30 \times 20 = 600$
C) $30 \times 30 = 900$ D) $30 \times 40 = 1200$



Yukarıdaki şemsiye boya kalemlerinin üzerlerindeki işlemlerin sonuçlarına göre boyanacaktır.

Şemsiyenin doğru boyanmış hâli aşağıdakilerden hangisidir?



Cengiz'in cebinde 50 TL parası vardır. Alacağı kitaplara parası yetmediğinden kalanını annesi veriyor.



Cengiz'in istediği kitapları alabilmek için kaç TL'ye daha ihtiyacı vardır?

- A) 10 B) 11 C) 102 D) 110

Kurtuluş Apartmanı sakinlerinin en sevdiği program türleri ile ilgili yandaki çetele tablosu oluşturulmuştur.

En Sevilen Program Türleri

Spor	###	###	III
Belgesel	###	I	
Eğlence	###	IIII	
Sinema	###	###	I

Yandaki bilgilerle oluşturulacak sıklık tablosu aşağıdakilerden hangisidir?

A)

Spor	13
Belgesel	11
Eğlence	9
Sinema	16

B)

Spor	13
Belgesel	6
Eğlence	9
Sinema	11

C)

Spor	15
Belgesel	8
Eğlence	10
Sinema	12

D)

Spor	11
Belgesel	9
Eğlence	11
Sinema	11

Osman amcanın bahçesinde kiraz, şeftali, portakal ve limon ağaçları vardır. Osman amca kiraz ve şeftalileri yaz mevsiminde, portakal ve limonları kış mevsiminde toplamaktadır. Aşağıda Osman amcanın bahçesindeki ağaç sayıları ve her bir ağaçtan topladığı meyve miktarları verilmiştir.

Meyve adı	Adet	Her bir ağaçtan toplanan meyve miktarı (kg)
Şeftali	107	38
Limon	98	49
Kiraz	47	123
Portakal	65	76

Buna göre Osman amcanın yaz mevsiminde topladığı meyve miktarı, kış mevsiminde topladığı meyve miktarından kaç kilogram fazladır?

- A) 98 B) 105 C) 116 D) 128

Yandaki tabloda bir atölyede mart ayında dikilen takım elbise sayıları verilmiştir. Bu atölyede dikilen takım elbise sayıları her hafta farklı bir örüntü oluşturacak şekilde artmış veya azalmıştır. Atölyede pazar günleri üretim yapılmamaktadır.

Buna göre hangi ifade doğrudur?

- A) 10 Mart'ta yapılan üretim ile 20 Mart'ta yapılan üretimin toplamı 245'tir.
 B) Mart ayının dördüncü haftası toplam 552 takım elbise üretilmiştir.
 C) Atölyede cuma günleri üretilen toplam takım elbise sayısı 403'tür.
 D) 16 Mart'ta üretilen takım elbise sayısı, 24 Mart'ta üretilen takım elbise sayısından 2 fazladır.

Mart						
Pzt	Sa	Çrş	Prş	C	Cmt	Pz
1	2	3	4	5	6	7
69	81	93	129	
8	9	10	11	12	13	14
103	95	79	66	
15	16	17	18	19	20	21
86	114	128	142	
22	23	24	25	26	27	28
125	112	86	60	
29	30	31				
94	100	106				

Yandaki ev satılıktır. Evin fiyatı ile ilgili aşağıdaki bilgiler verilmiştir.

- En yakın yüzlüğe yuvarlandığında bir sonraki yüzlüğe yuvarlanır.
- Binler bölüğündeki rakamların toplamı 23'tür.
- On binler basamağındaki rakam, yüzler basamağındaki rakamdan küçüktür.
- Binler ve onlar basamağındaki rakamların basamak değerleri toplamı 9070'tir.
- Evin fiyatı tek sayıdır.

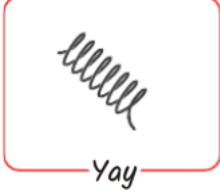
Buna göre evin fiyatı aşağıdakilerden hangisi olabilir?

- A) 986 873 B) 896 746 C) 859 972 D) 869 875





Esnek olmayan maddelere kuvvet uyguladığımızda kalıcı şekil değişikliği olur.



Yay



Lastik



Metal-Kaşık



Kalem



Kâğıt

Yukarıda verilen maddelerden kaç tanesine kuvvet uyguladığımızda kalıcı şekil değişikliği olur?

A) 5

B) 4

C) 3

D) 2

Sağlıklı yaşam için dengeli beslenme çok önemlidir. Farklı besinleri tüketerek beslenme alışkanlığımızı düzenlemeliyiz.

Besinlerin içerikleri dikkate alındığında hangi yemek listesi sağlıklı bir öğün olabilir?

A)

- ➡ Fırında balık
- ➡ Bulgur pilavı
- ➡ Portakal suyu

B)

- ➡ Kıymalı yumurta
- ➡ Etli nohut
- ➡ Kızarmış tavuk

C)

- ➡ Patates kızartması
- ➡ Pirinç pilavı
- ➡ Makarna

D)

- ➡ Fırında tavuk
- ➡ Et döner
- ➡ Sulu köfte

Aşağıda ileri doğru hareket eden bir oyuncak kamyon görseli verilmiştir.



Bu kamyon ile ilgili verilen;

- 1- 1 yönünde kuvvet uygulanırsa kuvvetin hızlandırıcı etkisi görülür.
- 2- 3 yönünde kuvvet uygulanırsa kuvvetin yavaşlatıcı etkisi görülür.
- 3- 2 yönünde kuvvet uygulanırsa kuvvetin şekil değiştirici etkisi görülür.
- 4- 4 yönünde kuvvet uygulanırsa kuvvetin yön değiştirici etkisi görülür.

Bilgilerinden hangileri doğrudur?

A) 1 ve 2

B) 1, 2 ve 3

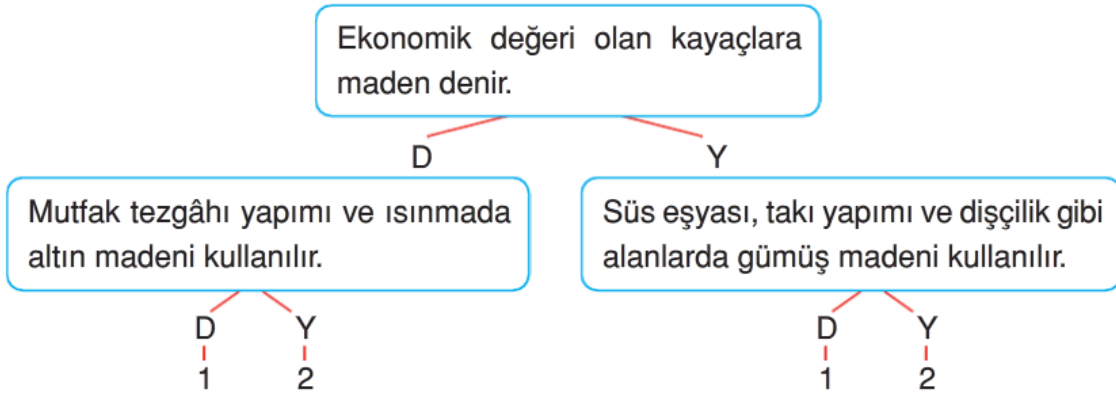
C) 1, 2 ve 4

D) 1, 2, 3 ve 4

	Doğru	Yanlış
Kuvvet, duran cisimleri hareket ettirebilir.		
Baltanın odun kırması kuvvetin esneklik etkisine örnektir.		
Tenis topuna vuran sporcu, kuvvetin yön değiştirici etkisini göstermiştir.		

Verilen tabloda boş bırakılan yerlerin işaretlemesi hangi seçenekte doğru verilmiştir?

A)	Doğru	Yanlış	B)	Doğru	Yanlış	C)	Doğru	Yanlış	D)	Doğru	Yanlış
		✓		✓			✓			✓	
		✓		✓			✓				✓
✓			✓					✓	✓		



Yukarıdaki şemada madenlerle ilgili doğru verilen bilgi için "D" okunu, yanlış bilgi için "Y" okunu takip eden bir öğrenci hangi numaraya ulaşır?

- A) 1 B) 2 C) 3 D) 4

Sigarayı bırakmak isteyenler Alo155 hattını arayabilirler.	Akciğer kanserinin en büyük nedeni sigaradır.
Pasif içicilik sigara içmek kadar tehlikelidir.	Alkol; mide, beyin ve sinirlere zarar verir.

Yukarıdaki tabloda verilen bilgilerden doğru olanlar boyanacaktır.

Buna göre kutuların doğru boyanmış hâli hangisidir?

A)	<table border="1"><tr><td></td><td></td></tr><tr><td></td><td></td></tr></table>					B)	<table border="1"><tr><td></td><td></td></tr><tr><td></td><td></td></tr></table>					C)	<table border="1"><tr><td></td><td></td></tr><tr><td></td><td></td></tr></table>					D)	<table border="1"><tr><td></td><td></td></tr><tr><td></td><td></td></tr></table>				

Aşağıda bazı olaylar ve görselleri verilmiştir.



Ahmet, penaltı atışı için topa vurdu. Top kale direğine çarparak dışarı çıktı.



Sinem'in elindeki bardak elinden kayıp yere düştü. Yere düşen bardak kırıldı.



Efe, içecek kutusunu eliyle yamulttu.



Uçak havaalanına inişe geçti.

Çisem bu olaylarla ilgili aşağıdaki bilgileri yazmıştır.

1. Ahmet ve Sinem'in yaşadığı olaylarda kuvvetin hızlandırıcı etkisi görülmektedir.
2. Kuvvetin şekil değiştirme etkisini yalnızca Efe gerçekleştirmiştir.
3. Havaalanına iniş yapan uçak kuvvetin yavaşlama etkisine örnek olarak verilebilir.
4. Ahmet'in penaltı atışında kuvvetin cisimler üzerindeki iki farklı etkisi görülmüştür.

Buna göre Çisem'in yazdığı bilgilerden hangileri doğrudur?

- A) 1 ve 2 B) 1 ve 3 C) 1, 3 ve 4 D) 2, 3 ve 4

Nazlı elindeki mıknatısları farklı şekillerde yan yana getiriyor. Mıknatısların birbirlerine göre durumlarını "çekti" veya "itti" olarak çalışmasının üstüne yazıyor.



Buna göre hangi ifade söylenemez?

- A) I. durumda 2 numaralı bölüm N kutbu ise 4 numaralı bölüm de N kutbudur.
B) II. durumda 5 ve 8 numaralı bölümler aynı kutuplardır.
C) III. durumda 9 numaralı bölüm S kutbu ise 11 numaralı bölüm de S kutbudur.
D) IV. durumda 13 numaralı bölüm N kutbu ise 16 numaralı bölüm S kutbudur.



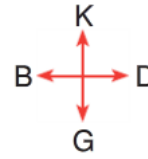
İstiklâl madalyasının üzerindeki figürler, devletimizin yüceliğini anlatmasının yanında o günün büyük fedakârlıklarını da ifade eder. Örneğin, madalyanın alt yarısında, bulutların hemen altında sağa doğru yürüyen iki öküzün çektiği kağrı arabası ve Türk kadını figürü yer almaktadır. İstiklâl Savaşı'nı simgeleyen madalyada İstiklâl Savaşı'nın kazanılmasında büyük özverisi olan Türk kadınına yer verilmiştir. Türk kadınının yaptığı kahramanlıklar yüceltilmiştir.



Yukarıdaki paragrafta ifade edilen figür hangi millî mücadele kahramanını anlatmaktadır?

- A) Kağrıyla cephane taşıyan Şerife Bacı
- B) Düşmana ilk kurşunu sıkan Hasan Tahsin
- C) Aydın ve çevresinde mücadele eden Yörük Ali Efe
- D) Sakarya Meydan Savaşı'nda mücadele eden Fevzi Paşa

Belediye	Okul	
Park	Spor Salonu	Eczane
Orman	Hastane	



Yukarıdaki krokiye göre spor salonunun yerini en doğru ifade eden seçenek aşağıdakilerden hangisidir?

- A) Hastanenin kuzeyinde, parkın batısındadır.
- B) Okulun güneyinde, eczanenin batısındadır.
- C) Ormanın kuzeyinde, belediyenin güneyindedir.
- D) Eczanenin doğusunda, belediyenin güneyindedir.

Hava durumunu önceden bilmek bazı meslekler için hayati önem taşır. Sürücüler, kaptanlar, çiftçiler gibi meslekler hava tahminlerini yakından takip eder. Ülkemizde hava olaylarını inceleyip hava durumunu önceden tahmin eden kurum

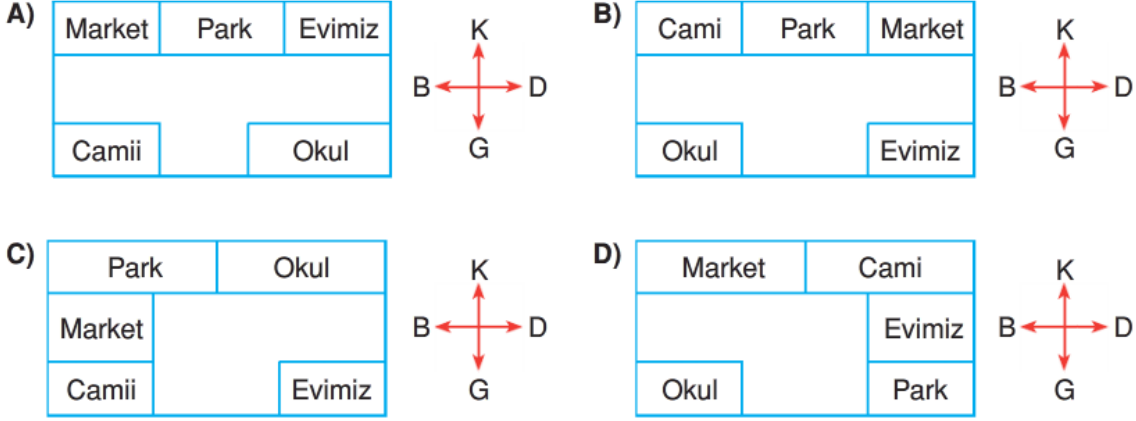
Yukarıdaki metinde boş bırakılan yere yazılması uygun olan kurum aşağıdakilerden hangisidir?

- A) Televizyon kanalları
- B) Meteoroloji İşleri Genel Müdürlüğü
- C) Devlet Su İşleri Genel Müdürlüğü
- D) Tarım ve Orman Bakanlığı



Evimiz marketin güneyinde, okulun doğusundadır.

Aşağıdakilerden hangisi Kerem'in evini gösteren kroki olabilir?



I. Başkomutanlık Meydan Savaşı ile Yunanlılar yenilgiye uğratıldı.

II. Ankara'da Büyük Millet Meclisi'ni açmıştır.

III. 19 Mayıs 1919'da Samsun'a çıkarak Millî Mücadele'yi başlatmıştır.

Yukarıda Mustafa Kemal'in Millî Mücadele dönemine ait bazı kahramanlıkları yazılmıştır.


Bu olayların kronolojik sıralaması aşağıdakilerden hangisidir?

A) I, II, III

B) III, II, I

C) III, I, II

D) II, III, I

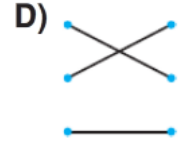
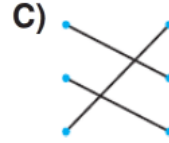
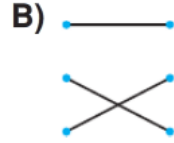


Yukarıdaki olaylar kronolojik olarak ilerlediğine göre ★ ve ▲ yerine hangileri gelmelidir?

- A) ★ 1915 ▲ 1919
- B) ★ 1919 ▲ 1922
- C) ★ 1919 ▲ 1923
- D) ★ 1923 ▲ 1919

üzgünüm •	• Fiziksel Özellik
siyah tenliyim •	• Duygusal Özellik
dürüstüm •	• Kişisel Özellik











Yukarıdaki eşleştirme hangi seçenekte doğru gösterilmiştir?



Aşağıda verilen bilgilerden hangisini deprem sırasında yapmamız uygun olmaz?

- A) Buzdolabı gibi sağlam bir eşyanın yanına çökmeliyiz.
- B) Pencere ve cam kenarlarından uzak durmalıyız.
- C) Paniğe kapılmadan depremin bitmesini beklemeliyiz.
- D) Dolap gibi devrilme ihtimali olan eşyaları duvara sabitlemeliyiz.

Aşağıdaki grafikte Aydın ve Isparta iline ait 5 günlük hava olayları gösterilmiştir.

İller	Pazartesi	Salı	Çarşamba	Perşembe	Cuma
Aydın					
Isparta					

Grafiğe göre hangisi söylenemez?

- A) Aydın ilinde beş gün boyunca hava çoğunlukla güneşli geçmiştir.
- B) Isparta ili beş günde daha yağışlıdır.
- C) Çarşamba günü iki ilimize de yağmur yağmıştır.
- D) Salı günü Isparta ili daha rüzgârlı geçmiştir.

Aşağıda Türkiye Siyasi Haritası ve Türkiye Fiziki Haritası verilmiştir.

Türkiye Siyasi Haritası



Türkiye Fiziki Haritası



Buna göre hangi öğrenci verdiği bilgileri diğerlerinden farklı bir haritaya bakarak söylemiştir?

- A) **Ayça:** Yaşadığımız yer deniz seviyesinden 500 m yüksektir.
- B) **Orçun:** Yaşadığımız yerde yüksek dağlar bulunmaktadır.
- C) **Emre:** İlimiz; Ordu, Sinop ve Amasya'ya komşudur.
- D) **Hülya:** İlçemizin batısında düzlük alanlar varken doğuya doğru gidildikçe yükselti artmaktadır.




Aşağıdaki resme göre öğrenci ne için izin istemektedir?



- A) May I turn on the lights ?
- B) May I take your pencil ?
- C) May I close the door ?
- D) May I answer the question ?

Aşağıdaki cümleyi anlatan görsel hangi şıkta verilmiştir?

"I can take photographs."



Aşağıdaki işlemin sonucu hangi şıkta verilmiştir?

$$21 + 47 = ?$$

- A) Sixty eight
- B) Eighty seven
- C) Fifty one
- D) Forty nine

Aşağıdaki pusulada yönler, sayılarla ifade edilmiştir.

Sayı-yön eşleştirmesinin doğru olarak verildiği şık hangisidir?



	1	2	3	4
A)	East	West	North	South
B)	South	North	West	East
C)	North	South	East	West
D)	West	East	South	North



Resme göre noktalı yere gelmesi gereken ifade hangisidir?

"I like"

- A) reading a book B) swinging
C) swimming D) sliding

